

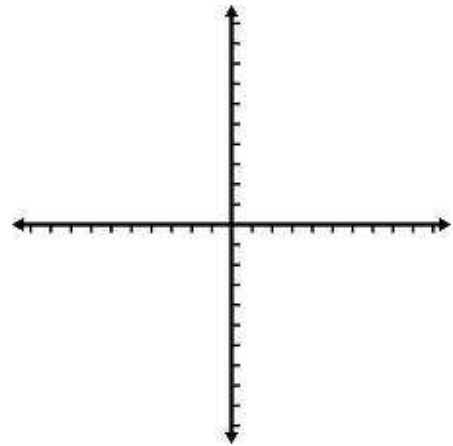
Relations linéaires

Exemple 1

La grand-mère de Jack lui donnait l'argent pour son anniversaire. Jack dépensait 5\$ de cet argent pour acheter des fleurs pour sa mère, puis il a décidé d'acheter les Slurpees pour ses amis. Les Slurpees coûtent 2\$ chacun.

table de valeurs

la graphique



l'équation



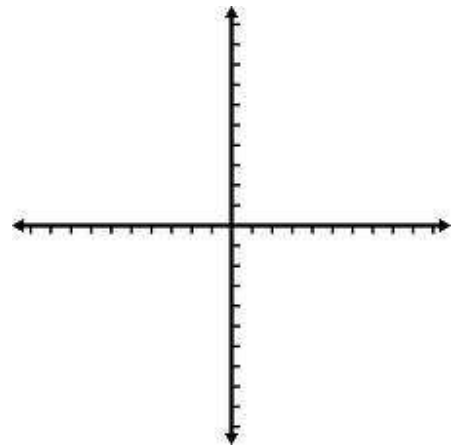
des manèges

Exemple 2

Kara paie 8\$ pour entrée à un carnaval. Les billets de manèges coûtent 3\$ chacun.

table de valeurs

la graphique



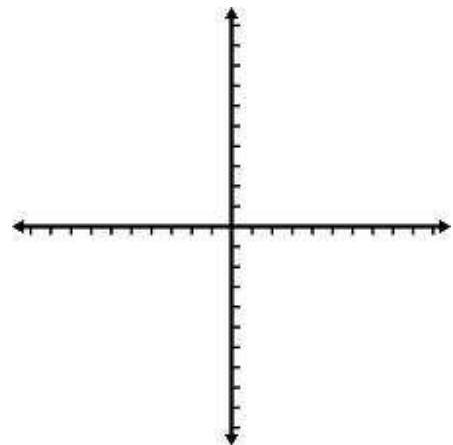
l'équation

Exemple 3

Le solde bancaire de Tim commence à 10\$ (*Le solde bancaire est la totale d'argent qu'il a dans son compte*). Puis chaque semaine, il fait un dépôt de 20\$.

table de valeurs

la graphique



l'équation

